



# Bassin de retenue de Saint-Michel-sur-Orge



Place les mots sur la carte :

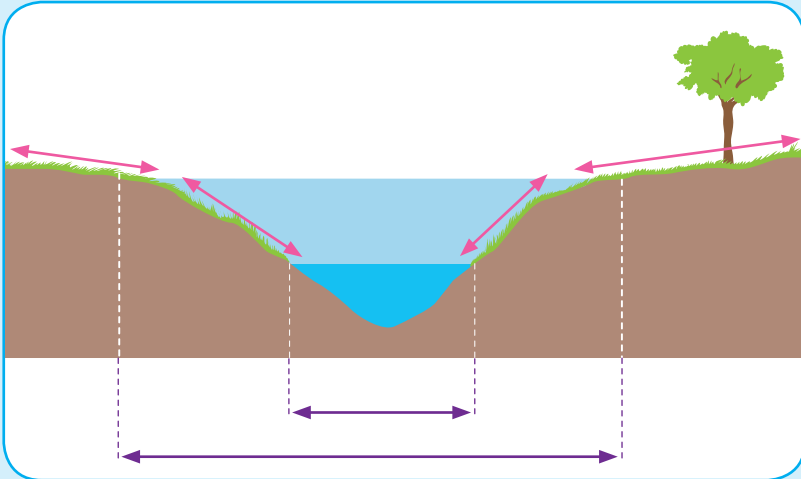
Amont, Aval, Rive droite, Rive gauche, Clapet d'entrée, Vanne de sortie



# La rivière

## Le vocabulaire de la rivière

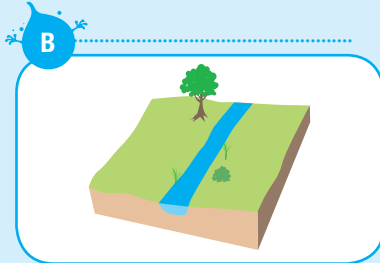
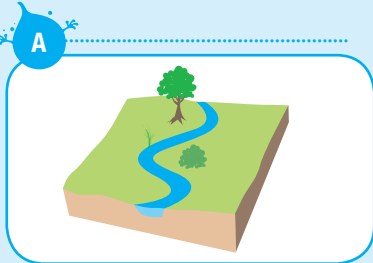
Place les mots suivants sur le schéma : **lit mineur**, **lit majeur**, **berge**, **rive**



Exercices

## La forme d'une rivière

Quelle est la rivière rectiligne et la rivière sinueuse ?



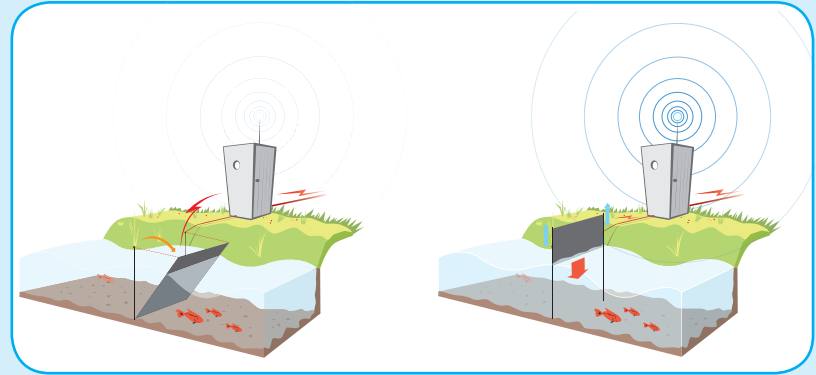
Comment s'appellent les virages dans la rivière **A** ? .....  
Entoure-les sur le schéma.

Dans quelle rivière la vitesse du courant est-elle ralentie ?  **A**  **B**

# La télégestion

## La vanne et le clapet

Complète les légendes des 2 schémas avec les mots suivants :  
**une vanne, un clapet, en dessous, par-dessus.**



À l'ouverture d'....., À l'ouverture d'.....  
l'eau passe ..... l'eau passe .....

## La mire

À quoi sert une mire ?.....  
.....  
.....

L'alerte orange inondation (triangle orange) est déclenchée quand le niveau de la rivière atteint ..... mètres (m).

L'alerte rouge inondation (triangle rouge) est déclenchée quand le niveau de la rivière atteint ..... mètres (m).

